







ชื่อ

วันที่

จงใส่ตัวตั้งและตัวบวกให้เท่ากับผลลัพธ์ที่กำหนดให้

1.   +   = 4

---

2. + = 7

---

3. + = 9

---

4. + = 14

---

5. + = 12

---

6. + = 16